

**ВСЕРОССИЙСКАЯ ОЛИМПИАДА ШКОЛЬНИКОВ
ПО ИСТОРИИ. МУНИЦИПАЛЬНЫЙ ЭТАП. 9 КЛАСС.**

20909

Фамилия, имя Лукичев Денис Сергеевич Класс 9

1. Соотнесите архитектурное сооружение и событие, в честь которого оно было построено. Ответ запишите в таблицу, за каждый правильный 1 балл. **Всего 5 баллов.**

А. Покровский собор	1. построен в честь рождения наследника Василия III Ивана
Б. Церковь Вознесения в с. Коломенском	2. заложен после победы над печенегами
В. Храм Спаса на крови	3. построен на месте гибели Александра II
Г. Храм Христа Спасителя	4. построен в честь взятия Казани
Д. Софийский собор в Киеве	5. построен в честь победы в Отечественной войне 1812 г.

-	-	-	-	+
А.	Б.	В.	Г.	Д.
5	3	4	1	2

10

2. Соотнесите события и даты. Ответ запишите в таблицу, за каждый правильный 1 балл. **Всего 5 баллов.**

События	Даты
А. Битва под Аустерлицем	1. 1721 г.
Б. Судебная реформа Александра II	2. 1649 г.
В. Принятие Соборного Уложения	3. 1805 г.
Г. Создание Синода	4. 1785 г.
Д. Дарование жалованной грамоты городам и дворянству	5. 1864 г.

-	+	-	-	-
А.	Б.	В.	Г.	Д.
2	5	1	3	4

10

3. Соотнесите термины и их определения. Ответ запишите в таблицу, за каждый правильный 1 балл. **Всего 5 баллов.**

Термины	Определения
А. Верфь	1. община
Б. Посад	2. налог пушниной с населения Сибири
В. Слобода	3. предприятие, занимающееся постройкой судов
Г. Вервь	4. торгово-ремесленная часть города
Д. Ясак	5. район города, населенный ремесленниками одной специальности

+	-	-	-	-	-
А.	Б.	В.	Г.	Д.	
3	5	4	2	1	

10

4. Прочитайте утверждения и установите их верность или ложность (да или нет). По 1 баллу за каждый правильный ответ. **Всего 10 баллов.**

А.	В период призвания варягов Синеус стал управлять в Белоозере
Б.	Княгиня Ольга крестилась в Польше
В.	Юрий Долгорукий и Андрей Боголюбский были князьями Владимиро-Суздальской земли
Г.	Система баскачества была отменена в XV веке
Д.	Указ об урочных летах устанавливал 5-летний срок сыска беглых крестьян
Е.	Алексей Михайлович носил прозвище «Бунташный»
Ж.	Петр I принимал участие в составе «великого» посольства в Европу
З.	XVIII век называют золотым веком крестьянства
И.	Политика Континентальной блокада была направлена против США
К.	Николай I подавил восстание в Венгрии по просьбе австрийского императора

+	-	-	-	+	+	+	-	+	-
А.	Б.	В.	Г.	Д.	Е.	Ж.	З.	И.	К.
да	да	нет	да	да	нет	да	да	нет	нет

50

В списке фамилий одна является лишней. Выпишите ее и объясните, почему Вы ее исключили. По 2 балла за каждый правильный ответ. **Всего 10 баллов.**

- А. Уваров, Бенкендорф, Победоносцев, Герцен
- Б. Милорадович, Чернышевский, Ермолов, Багратион
- В. Кочубей, Строганов, Челубей, Новосильцев
- Г. С. Перовская, А. Желябов, Л. Мартов, В. Засулич
- Д. Аксаков, Н. Муравьев, П. Пестель, М. Бестужев-Рюмин

Ответ:

- А. Уваров —
- Б. Багратион —
- В. Новосильцев —
- Г. С. Перовская —
- Д. Пестель —

6. Заполните пробелы в тексте. По 1 баллу за каждый правильный ответ. **Всего 12 баллов.**

«На время княжения 1. _____ (имя князя) приходится успешная война с Волжской Булгарией. В честь одержанной победы неподалеку от его княжеской резиденции 2. _____ (название резиденции) была воздвигнута замечательная церковь Покрова Богородицы на р. 3. _____ (название реки). Этот князь стремился овладеть великокняжеским престолом, его войска взяли 4. _____ (название города) и учинили там страшный разгром. Однако, в отличие от своего отца 5. _____ (имя отца), он ставил своей целью укрепление собственного 6. _____ (название) княжества. В годы его правления в новой столице княжества 7. _____ (название города-столицы) по примеру Киева были построены 8. _____ (название арх.памятника) и 9. _____ (название собора). После его гибели началась борьба за власть, которую одержал 10. _____ (имя князя и прозвище). А сыну этого князя суждено было погибнуть в битве с монголами на реке 11. _____ (название реки) в 12. _____ г. (указать год)

7. Впишите правильную букву (буквы) вместо пропусков. Дайте определения данных понятий и терминов. По 2 балла за каждый правильный ответ. **Всего 10 баллов.**

- А. Хр.м.ст.р.матия _____
- Б. Ц.р.л.ч.бат -обла безбрачье ++
- В. М.р.м.р.ч.альный +
- Г. Сч.куляр.м.зация _____ 1/8
- Д. Эксп.р.диция +

8. Чем знамениты эти корабли? С какими событиями отечественной истории они связаны? По 1 баллу за каждый правильный ответ. **Всего 5 баллов.**

- А. «Аврора» _____
- Б. «Азов» _____
- В. «Князь Потемкин-Таврический» _____
- Г. «Варяг» _____
- Д. «Восток» и «Мирный» _____

9. Прочитайте текст и замените устаревшие слова на современные. По 1 баллу за каждый правильный ответ. **Всего 5 баллов.**

Из духовной грамоты «Во имя отца и сына и святого духа. Се яз грешный худый раб божий Иван пишу душевную (1. _____) грамоту, ида в Орду ни кимь не нужен (2. всех) целымь своимь умом, в своемь здоровьи. Аже бог что розгадает (3. моя) о моем животе (4. _____) даю ряд (5. _____) сыном своим и княгини своей.

Перед Вами 8 изображений, которые можно сгруппировать в 4 группы по 2 изображения в каждой. Всего за задание 13 баллов.

А. Определите критерий группировки, запишите его (1 балл)

Жизнь и события, связанное с правлением князя —

Б. Сгруппируйте изображения (по 1 баллу к каждой группе, всего 4 балла)

5-8 ; 4-2 ; 3-7 ; 6-1.

В. Кратко подпишите каждое изображение (по 1 баллу, всего 8 баллов)

- 1) _____
- 2) _____
- 3) _____
- 4) _____
- 5) *Петр I —*
- 6) *Визит Александра I —*
- 7) *Полод через Альпы +*
- 8) _____

16



1.



2.



3.



4.




5.



6.



7.



8.

Изучите карту. Ответьте на вопросы к ней. По 2 балла за каждый правильный ответ. Всего 10 баллов.



А. Напишите название войны и годы, в которые она проходила

Крымская война 1853-1856 гг. +

Б. Кто в это время был правителем России, назовите годы его правления

В. Назовите не менее 3 российских военачальников, участвующих в войне

10

Г. Каков был итог войны? Что такое «нейтрализация» Черного моря?

Д. Почему «памятник затопленным кораблям» так называется? Где он находится?

12. Работа с документом. Прочитайте и ответьте на вопросы. По 2 балла за каждый правильный ответ. Всего 10 баллов.

«1) Если кто из помещиков пожелает отпустить благоприобретенных или родовых крестьян своих по одиночке, или и целым селением на волю, и вместе с тем утвердить им участок земли или целую дачу: то сделав с ними условия, какие по обоюдному согласию признаются лучшими, имеет представить их при прошении своем чрез губернского дворянского предводителя к министру внутренних дел для рассмотрения и представления нам...

4) Крестьяне и селения от помещиков по таким условиям с землею отпускаемые, если не пожелают войти в другие состояния, могут оставаться на собственных их землях земледельцами и сами по себе составляют особенное состояние свободных хлебопашцев...

6) Крестьяне, отпущенные от помещиков на волю и владеющие землею в собственность, несут подушный казенный оклад наравне с помещичьими, отправляют рекрутскую повинность натурою, и исправляя наравне с другими казенными крестьянами земские повинности, оброчных денег в казну не платят.

8) Как скоро исполнением условий, крестьяне, таковые получают землю в собственность: они будут иметь право продавать ее, закладывая и оставлять в наследие, не раздробляя однакож участков менее 8 десятин; равно имеют они право вновь покупать земли; а потому и переходить из одной губернии в другую; но не иначе как с ведома Казенной палаты для перечисления их подушного оклада и рекрутской повинности...»

А. Под каким названием вошел данный указ в историю? В каком году он был принят?

Указ о больших хлебопашцах. +

Б. В чье правление был принят данный указ? Кто помогал этому правителю в первые годы правления проводить реформы?

В. Что было общего (с точки зрения обязанностей) у освобождаемых крестьян с помещичьими?

Могли землю и могли ее продавать, закладывая и оставлять в наследие +

Г. Какие права получили крестьяне, освобожденные по этому указу? Могут уйти от землевладельца к другому землевладельцу, или остаться у него

Д. Каковы были конкретные последствия принятия данного указа?

10

150

**ВСЕРОССИЙСКАЯ ОЛИМПИАДА ШКОЛЬНИКОВ
ПО ИСТОРИИ. МУНИЦИПАЛЬНЫЙ ЭТАП. КЛАСС.**

41008

Фамилия, имя _____ Класс Белов Кирилл Николаевич 10 кл.

1. Соотнесите архитектурное сооружение и событие, в честь которого оно было построено. Ответ запишите в таблицу, за каждый правильный 1 балл. **Всего 5 баллов.**

А. Покровский собор	1. построен в честь рождения наследника Василия III Ивана
Б. Церковь Вознесения в с. Коломенском	2. заложен после победы над печенегами
В. Храм Спаса на крови	3. построен на месте гибели Александра II
Г. Храм Христа Спасителя	4. построен в честь взятия Казани
Д. Софийский собор в Киеве	5. построен в честь победы в Отечественной войне 1812 г.

+	-	-	+	-
А.	Б.	В.	Г.	Д.
4	3	2	5	1

20

2. Соотнесите современников отечественной и зарубежной истории. Ответ запишите в таблицу, за каждый правильный 1 балл. **Всего 5 баллов.**

А. Н.С. Хрущев	1. Хр. Колумб
Б. княгиня Ольга	2. Ф.Д.Рузвельт
В. Екатерина II	3. Ф. Кастро
Г. Иван III	4. Константин Багрянородный
Д. И.В. Сталин	5. Вольтер

-	-	+	-	-
А.	Б.	В.	Г.	Д.
2	1	3	4	5

3. Соотнесите войну и название мира, который был подписан по ее завершению. Ответ запишите в таблицу, за каждый правильный 1 балл. **Всего 5 баллов.**

А. русско-польская 1654-1667 гг.	1. Туркманчайский мир
Б. русско-иранская 1826-1828 гг.	2. Кючук-Кайнаржийский мир
В. русско-турецкая 1877-1878 гг.	3. Фридрихсгамский мир
Г. русско-шведская 1808-1809 гг.	4. Андрусовское перемирие
Д. русско-турецкая 1768-1774 гг.	5. Сан-Стефанский мир

-	-	-	-	-
А.	Б.	В.	Г.	Д.
5	2	1	4	3

4. Соотнесите руководителя советского государства и мероприятия, проводимые в годы его руководства. По 1 баллу за каждый правильный ответ. **Всего 12 баллов.**

1	Подписание Заключительного акта СБСЕ
2	XX съезд КПСС
3	Упразднение министерств и создание совнархозов
4	Принятие Закона «О кооперации»
5	Преобразование СНК в Совет Министров
6	Косыгинские реформы
7	Создание в СССР атомного оружия
8	Провозглашение нового политического мышления
9	Введение войск в Афганистан
10	«Ленинградское дело»
11	Курс на «ускорение» социально-экономического развития страны
12	Запуск искусственного спутника Земли

И.В. Сталин			Н.С. Хрущев			Л.И. Брежнев			М.С. Горбачев		
6	8	10	3	4	11	1	5	12	2	7	9

- - + + - - + - - - - -

30

10. По какому принципу образованы ряды. По 1 баллу за каждый правильный ответ. Всего 10 баллов.

- А. 1897, 1939, 1959, 1970 гг.
 Б. Л. Троцкий, Г. Чичерин, М. Литвинов, В. Молотов *революционеры* —
 В. зернь, чернь, скань, филигрань *вирн. ремесла*. —
 Г. «Боярыня Морозова», «Покорение Сибири Ермаком», «Меншиков в Березове»
 Д. шушун, понёва, убрус, душегрея *одежда* +
 Е. 1837, 1851, 1862, 1891-1916 гг.
 Ж. Ф. Шубин, Э. Фальконе, И. Мартос, П. Клодт
 З. бояре, окольные, думные дворяне, думные дьяки
 И. Орел, Брянск, Козельск, Тула *город-герои*. +
 К. И. Бунин, М. Шолохов, Б. Пастернак, А. Солженицын *писатели* —

20

6. Используя список имен, заполните таблицу. По 1 баллу за каждый правильный ответ. Всего 10 баллов.

- 1) В. Астафьев 2) С. Довлатов 3) Г. Вишневская 4) А. Герман 5) Е. Замятин 6) С. Бондарчук 7) Г. Уланова 8) Л. Гайдай 9) М. Плисецкая 10) С. Герасимов 11) В. Дудинцев 12) Н. Эрк

Писатели и поэты	Режиссеры	Деятели балетного искусства, певцы
1, 8, 9, 10	2, 4, 6, 11	3, 5, 12, 7

+ - - - - - - - + - + - - - + 100

7. Заполните пробелы в тексте. По 1 баллу за каждый правильный ответ. Всего 12 баллов.

«На время княжения 1. _____ (имя князя) приходится успешная война с Волжской Булгарией. В честь одержанной победы неподалеку от его княжеской резиденции 2. _____ (название резиденции) была воздвигнута замечательная церковь Покрова Богородицы на р. 3. _____ (название реки). Этот князь стремился овладеть великокняжеским престолом, его войска взяли 4. _____ (название города) и учинили там страшный разгром. Однако, в отличие от своего отца 5. _____ (имя отца), он ставил своей целью укрепление собственного 6. _____ (название) княжества. В годы его правления в новой столице княжества 7. _____ (название города-столицы) по примеру Киева были построены 8. _____ (название арх. памятника) и 9. _____ (название собора). После его гибели началась борьба за власть, которую одержал 10. _____ (имя князя и прозвище). А сыну этого князя суждено было погибнуть в битве с монголами на реке 11. _____ (название реки) в 12. _____ г. (указать год)

8. Впишите правильную букву (буквы) вместо пропусков. Дайте определения данных понятий и терминов. По 2 балла за каждый правильный ответ. Всего 10 баллов.

- А. Хр. в. ст. о. матия - *сборник рассказов, стихов, сказок и т.п.* +
 Б. Ц. в. л. ч. бат - *обет безбрачия* ++
 В. М. в. м. о. р. м. альный - *леф открытым небом* +
 Г. С. л. куляр. м. зация - *трагедия* +
 Д. Эксп. в. диция - *путешествие с целью утверждения нового* ++

70

9. Чем знамениты эти корабли? С какими событиями отечественной истории они связаны? По 1 баллу за каждый правильный ответ. Всего 5 баллов.

- А. «Аврора» - *проехавшая три борона Ленинградского-Калининского в честь Урицкого бойца.*
 Б. «Азов» - *перей Каваринского сражения.* +
 В. «Князь Потемкин-Таврический»
 Г. «Варяг»
 Д. «Восток» и «Мирный»

10

Перед Вами 8 изображений, которые можно сгруппировать в 4 группы по 2 изображения в каждой. Всего за задание 13 баллов.

A. Определите критерий группировки, запишите его (1 балл)

хронология происшедших событий. —

B. Сгруппируйте изображения (по 1 баллу к каждой группе, всего 4 балла)

1,2,7,8 — 3,4,5,6

B. Кратко подпишите каждое изображение (по 1 баллу, всего 8 баллов)

1)

2) Восстание декабристов —

3) Александр I —


4) Александр II —

5) Николай I —

6) Петр I +

7) переход через Ледяной +

8)



1.



2.



3



4.




5.



6.



7



8.

Работа с документом. Прочитайте и ответьте на вопросы. По 2 балла за каждый правильный ответ. **Всего 13 баллов.**

Из записок современника.

Две неудачные войны с _____ и третья, угрожавшая в _____ г. независимости России, заставила молодых русских патриотов исключительно посвятить себя военному званию на защиту Отечества. Дворянство, патриотически сочувствуя упадку нашей военной славы в войнах с Францией ... и предвидя скорый разрыв с нею, спешило вступать в ряды войска, готового встретить врага. Все порядочные и образованные молодые люди (дворяне), презирая гражданскую службу, шли в одну военную; молодые тайные и действительные статские советники с радостью переходили в армию подполковниками и майорами перед 1812 г.

Чрезвычайные события этого года, славное изгнание из России до того непобедимаго императора французов и истребление его несметных полчищ, последовавшие затем кампании и взятие Парижа, в которых наша армия принимала деятельное и славное участие, все это необыкновенно возвысило дух наших войск и особенно молодых офицеров.

В продолжение двухлетней тревожной боевой жизни, среди беспрестанных опасностей, они привыкли к сильным ощущениям, которые для смелых делаются почти потребностью.

В походах по Германии и Франции наши молодые люди ознакомились с европейской цивилизацией, которая произвела на них тем сильнейшее впечатление, что они могли сравнивать все виданное ими за границею с тем, что им на всяком шагу представлялось на Родине: *рабство огромного большинства русских, жестокое обращение начальников с подчиненными, всякого рода злоупотребления власти, повсюду царствующий произвол* — все это возмущало и приводило в негодование образованных русских и их патриотическое чувство.

Многие из них в походах познакомились с германскими офицерами, членами прусского тайного союза, который так благотворно содействовал освобождению и возвышению Пруссии, французскими либералами. В открытых беседах с ними наши молодые люди нечувствительно усвоили их свободный образ мыслей и стремление к конституционным учреждениям, стыдясь за Россию, так глубоко униженную самовластием»

А. Укажите год, пропущенный в тексте. Укажите пропущенное в тексте имя императора. Под каким названием вошли в историю молодые дворяне – участники движения, о котором пишет автор?

1812, Николая I, декабристы. + - + 20 (3 балла)

Б. Что повлияло на настроения и взгляды молодого дворянства в описываемый период? Укажите любые три положения

1) Рабство огромного большинства русских, 2) жестокое обращение начальников с подчиненными, 3) всякого рода злоупотребления власти. (3 балла)

В. Назовте лидеров движения дворян и их программные документы _____ (4 балла)

Г. Какие политические и социальные преобразования планировали представители молодого дворянства в своих программных документах? Укажите любые три преобразования.

_____ (3 балла)

ВСЕГО ЗА ОЛИМПИАДУ 100 БАЛЛОВ

238

**ВСЕРОССИЙСКАЯ ОЛИМПИАДА ШКОЛЬНИКОВ
ПО ИСТОРИИ. МУНИЦИПАЛЬНЫЙ ЭТАП. КЛАСС.**

Фамилия, имя _____ Класс Сидарина Ларьяна Сергеевна. 11 кл. Ц1105

1. Соотнесите архитектурное сооружение и событие, в честь которого оно было построено. Ответ запишите в таблицу, за каждый правильный 1 балл. **Всего 5 баллов.**

А. Покровский собор	1. построен в честь рождения наследника Василия III Ивана
Б. Церковь Вознесения в с. Коломенском	2. заложен после победы над печенегами
В. Храм Спаса на крови	3. построен на месте гибели Александра II
Г. Храм Христа Спасителя	4. построен в честь взятия Казани
Д. Софийский собор в Киеве	5. построен в честь победы в Отечественной войне 1812 г.

+	-	+	+	-
А.	Б.	В.	Г.	Д.
4	2	3	5	1

30

2. Соотнесите современников отечественной и зарубежной истории. Ответ запишите в таблицу, за каждый правильный 1 балл. **Всего 5 баллов.**

А. Н.С. Хрущев	1. Хр. Колумб
Б. княгиня Ольга	2. Ф.Д.Рузвельт
В. Екатерина II	3. Ф. Кастро
Г. Иван III	4. Константин Багрянородный
Д. И.В. Сталин	5. Вольтер

+	+	-	-	+
А.	Б.	В.	Г.	Д.
3	4	1	5	2

30

3. Соотнесите войну и название мира, который был подписан по ее завершению. Ответ запишите в таблицу, за каждый правильный 1 балл. **Всего 5 баллов.**

А. русско-польская 1654-1667 гг.	1. Туркманчайский мир
Б. русско-иранская 1826-1828 гг.	2. Кючук-Кайнаржийский мир
В. русско-турецкая 1877-1878 гг.	3. Фридрихсгамский мир
Г. русско-шведская 1808-1809 гг.	4. Андрусовское перемирие
Д. русско-турецкая 1768-1774 гг.	5. Сан-Стефанский мир

+	-	-	+	-
А.	Б.	В.	Г.	Д.
4	2	1	3	5

20

4. Соотнесите руководителя советского государства и мероприятия, проводимые в годы его руководства. По 1 баллу за каждый правильный ответ. **Всего 12 баллов.**

1	Подписание Заключительного акта СБСЕ
2.	XX съезд КПСС
3.	Упразднение министерств и создание совнархозов
4.	Принятие Закона «О кооперации»
5.	Преобразование СНК в Совет Министров
6.	Косыгинские реформы
7.	Создание в СССР атомного оружия
8.	Провозглашение нового политического мышления
9.	Введение войск в Афганистан
10.	«Ленинградское дело»
11.	Курс на «ускорение» социально-экономического развития страны
12.	Запуск искусственного спутника Земли

И.В. Сталин			Н.С. Хрущев			Л.И. Брежнев			М.С. Горбачев		
10	4	9	2	3	11	6	1	5	7	8	12

+ - - + + - + + - - + -

60

какому принципу образованы ряды. По 1 баллу за каждый правильный ответ. **Всего 10**

об.

1897, 1939, 1959, 1970 гг.

- Б. Л. Троицкий, Г. Чичерин, М. Литвинов, В. Молотов *рос. детиши* —
 В. зернь, чернь, скань, филигрань *всег ратими по материалу* —
 Г. «Боярыня Морозова», «Покорение Сибири Ермаком», «Меншиков в Березове» *картими* —
 Д. шушун, понёва, убрус, душегрея *оденда +*
 Е. 1837, 1851, 1862, 1891-1916 гг. *периоды революций* —
 Ж. Ф. Шубин, Э. Фальконе, И. Мартос, П. Клодт *художники* — **10**
 З. бояре, окольные, думные дворяне, думные дьяки *сослови* —
 И. Орел, Брянск, Козельск, Тула *города* —
 К. И. Бунин, М. Шолохов, Б. Пастернак, А. Солженицын *писатели* —

6. Используя список имен, заполните таблицу. По 1 баллу за каждый правильный ответ. **Всего 10 баллов.**

- 1) В. Астафьев, 2) С. Довлатов, 3) Г. Вишневская, 4) А. Герман, 5) Е. Замятин, 6) С. Бондарчук, 7) Г. Уланова, 8) Л. Гайдай, 9) М. Плисецкая, 10) С. Герасимов, 11) В. Дудинцев, 12) Н. Эрк

Писатели и поэты	Режиссеры	Деятели балетного искусства, певцы
8, 1, 4, 10	12, 2, 11	7, 6, 3, 5, 9
- + - -	+ - -	+ - + - +

50

7. Заполните пробелы в тексте. По 1 баллу за каждый правильный ответ. **Всего 12 баллов.**

«На время княжения 1. _____ (имя князя) приходится успешная война с Волжской Булгарией. В честь одержанной победы неподалеку от его княжеской резиденции 2. _____ (название резиденции) была воздвигнута замечательная церковь Покрова Богородицы на р. 3. *Керн +* (название реки). Этот князь стремился овладеть великокняжеским престолом, его войска взяли 4. _____ (название города) и учинили там страшный разгром. Однако, в отличие от своего отца 5. *Владислава -* (имя отца), он ставил своей целью укрепление собственного 6. _____ (название) княжества. В годы его правления в новой столице княжества 7. *Чернигов -* (название города-столицы) по примеру Киева были построены 8. _____ (название арх.памятника) и 9. _____ (название собора). После его гибели началась борьба за власть, которую одержал 10. _____ (имя князя и прозвище). А сыну этого князя суждено было погибнуть в битве с монголами на реке 11. _____ (название реки) в 12. _____ г. (указать год) **10**

8. Впишите правильную букву (буквы) вместо пропусков. Дайте определения данных понятий и терминов. По 2 балла за каждый правильный ответ. **Всего 10 баллов.**

- А. Хр.в.ст.матия *борник произведений, подборка по определению тематике +*
 Б. Ц.л.ч.бат - *обет собрания ++*
 В. М.в.м.р.ч.альный - *памятник, установленный в память о ком (какой) либо. ++*
 Г. С.в.кулярч.зация - *процесс +*
 Д. Эксп.в.дидция - *группа людей, отправляемая для исследования определенных объектов +* **70**

9. Чем знамениты эти корабли? С какими событиями отечественной истории они связаны? По 1 баллу за каждый правильный ответ. **Всего 5 баллов.**

- А. «Аврора» _____
 Б. «Азов» _____
 В. «Князь Потемкин-Таврический» _____
 Г. «Варяг» _____
 Д. «Восток» и «Мирный» *события войны 1941-1945 гг. -*

д Вами 8 изображений, которые можно сгруппировать в 4 группы по 2 изображения в
дой. **Всего за задание 13 баллов.**

Определите критерий группировки, запишите его (1 балл)

период времени, который отображают картины

Б. Сгруппируйте изображения (по 1 баллу к каждой группе, всего 4 балла)

1) 6, 7 — 2) 4, 4 — 3) 3, 2 — 4) 8, 5 —

В. Кратко подпишите каждое изображение (по 1 баллу, всего 8 баллов)

- 1) _____
- 2) _____
- 3) Александр I +
- 4) Минин —
- 5) Николай II +
- 6) Петр I +
- 7) Берег Суворова через Альпы! +
- 8) _____

40



1.



2.



3



4.



5.



6.



7



8.

та с документом. Прочитайте и ответьте на вопросы. По 2 балла за каждый правильный ответ. Всего 13 баллов.

з записок современника.

Две неудачные войны с _____ и третья, угрожавшая в _____ г. независимости России, заставила молодых русских патриотов исключительно посвятить себя военному званию на защиту Отечества. Дворянство, патриотически сочувствуя упадку нашей военной славы в войнах с Францией ... и предвидя скорый разрыв с нею, спешило вступать в ряды войска, готового встретить врага. Все порядочные и образованные молодые люди (дворяне), презирая гражданскую службу, шли в одну военную; молодые тайные и действительные статские советники с радостью переходили в армию подполковниками и майорами перед _____ г.

Чрезвычайные события этого года, славное изгнание из России до того непобедимаго императора французов и истребление его несметных полчищ, следовавшие затем кампании и взятие Парижа, в которых наша армия принимала деятельное и славное участие, все это необыкновенно возвысило дух наших войск и особенно молодых офицеров.

В продолжение двухлетней тревожной боевой жизни, среди беспрестанных опасностей, они привыкли к сильным ощущениям, которые для смелых делаются почти потребностью.

В походах по Германии и Франции наши молодые люди ознакомились с европейской цивилизацией, которая произвела на них тем сильнейшее впечатление, что они могли сравнивать все виданное ими за границею с тем, что им на всяком шагу представлялось на Родине: рабство огромного большинства русских, жестокое обращение начальников с подчиненными, всякого рода злоупотребления власти, повсюду царствующий произвол — все это возмущало и приводило в негодование образованных русских и их патриотическое чувство.

Многие из них в походах познакомились с германскими офицерами, членами прусского тайного союза, который так благотворно содействовал освобождению и возвышению Пруссии, французскими либералами. В открытых беседах с ними наши молодые люди нечувствительно усвоили их свободный образ мыслей и стремление к конституционным учреждениям, стыдясь за Россию, так глубоко униженную самовластием»

А. Укажите год, пропущенный в тексте. Укажите пропущенное в тексте имя императора. Под каким названием вошли в историю молодые дворяне – участники движения, о котором пишет автор?

1812, Иммунитет, Наполеон. ++ (3 балла)

Б. Что повлияло на настроения и взгляды молодого дворянства в описываемый период? Укажите любые три положения

война, вышед на тушь со стороны европейской цивилизации, потеря чувства патриотизма, возмущение духа молодых офицеров из-за победы в битвах. + (3 балла)

В. Назовте лидеров движения дворян и их программные документы _____ (4 балла)

Г. Какие политические и социальные преобразования планировали представители молодого дворянства в своих программных документах? Укажите любые три преобразования.

уменьшение туши казнили.
Отмена крепостной власти +
роль народа в борьбе гос-ва - (3 балла)

405
365

ВСЕГО ЗА ОЛИМПИАДУ 100 БАЛЛОВ